







ВСЕРОССИЙСКИЙ
ДИСТАНЦИОННЫЙ КОНКУРС
ДЛЯ УЧЕНИКОВ НАЧАЛЬНЫХ
КЛАССОВ "НАУКОГРАД"

 ngkonkurs.ru

 naukograd-konkurs@mail.ru

 +7 (3852) 25-19-93

 vk.com/naukogradkonkurs

ПРИМЕРЫ ЗАДАНИЙ

МАТЕМАТИКА

1 КЛАСС

Дорогие друзья! Мы рады, что вы принимаете участие в нашем конкурсе! Внимательно читайте задания перед выполнением. Помните: в каждом из них может быть как один, так и несколько верных вариантов ответа. Сначала выполните задания на черновике, проверьте свои ответы, после чего заполните бланк ответов. Необходимо поставить метку ("крестик") в клеточку, которая соответствует выбранному варианту ответа. Желаем успехов!

1. Укажи общее количество помидоров и вишен, изображенных на рисунке.



- А) 3
- Б) 4
- В) 5
- Г) 6

2. Я стою в очереди предпоследним, а впереди меня стоят ещё 3 человека. Сколько всего человек в очереди?

- А) 4 человека
- Б) 5 человек

- В) 6 человек
- Г) 7 человек

3. Какой пример соответствует картинке?



- А) $4 + 4 = 8$
- Б) $3 + 6 = 8$
- В) $5 + 3 = 8$
- Г) $7 + 2 = 9$

4. Мороженое пломбир стоит дороже, чем фруктовое. А фруктовое мороженое стоит дороже, чем шоколадное. Какое мороженое самое дорогое?

- А) пломбир
- Б) шоколадное
- В) фруктовое
- Г) нельзя определить

5. Мама отправила две посылки. Одна посылка весила 7 кг, а другая на 3 кг тяжелее. Сколько весили эти две посылки вместе?

- А) 10 кг
- Б) 11 кг
- В) 17 кг
- Г) 23 кг

