







ВСЕРОССИЙСКИЙ  
ДИСТАНЦИОННЫЙ КОНКУРС  
ДЛЯ УЧЕНИКОВ НАЧАЛЬНЫХ  
КЛАССОВ "НАУКОГРАД"

 [ngkonkurs.ru](http://ngkonkurs.ru)

 [naukograd-konkurs@mail.ru](mailto:naukograd-konkurs@mail.ru)

 +7 (3852) 25-19-93

 [vk.com/naukogradkonkurs](https://vk.com/naukogradkonkurs)

## ПРИМЕРЫ ЗАДАНИЙ

## МАТЕМАТИКА

## 3 КЛАСС

Дорогие друзья! Мы рады, что вы принимаете участие в нашем конкурсе! Внимательно читайте задания перед выполнением. Помните: в каждом из них может быть как один, так и несколько верных вариантов ответа. Сначала выполните задания на черновике, проверьте свои ответы, после чего заполните бланк ответов. Необходимо поставить метку ("крестик") в клеточку, которая соответствует выбранному варианту ответа. Желаем успехов!

- 1. Длина первого звена ломаной линии 3 м 500 мм, что на 1 м 990 мм больше, чем длина второго звена. Длина третьего звена этой ломаной 3 м 750 мм. На сколько больше длина третьего звена, чем второго?**
  - А) 1 м 740 мм
  - Б) 1 м 510 мм
  - В) 2 м 240 мм
  - Г) 5 м 260 мм
- 2.  $\frac{1}{3}$  часа – это...**
  - А) 20 минут
  - Б) 25 минут
  - В) 30 минут
  - Г) 15 минут
- 3. На дворе гуляют куры и поросята. У всех вместе 20 голов и 52 ноги. Сколько всего кур и сколько поросят?**

- А) 6 поросят, 14 кур
- Б) 26 поросят, 14 кур
- В) 14 поросят, 6 кур
- Г) 6 поросят, 8 кур

- 4. Утром секретарь напечатал документов в 5 раз больше, чем днём, а днём в 2 раза больше, чем вечером. Вечером был напечатан 1 документ. Сколько документов было напечатано утром?**
  - А) 100 документов
  - Б) 50 документов
  - В) 10 документов
  - Г) 11 документов
- 5. Домашний робот за 2 секунды делает 4 бутерброда. Сколько бутербродов сделает робот за 1 минуту?**
  - А) 60 бутербродов
  - Б) 240 бутербродов
  - В) 120 бутербродов
  - Г) 80 бутербродов

