





ВСЕРОССИЙСКИЙ
ДИСТАНЦИОННЫЙ КОНКУРС
ДЛЯ УЧЕНИКОВ НАЧАЛЬНЫХ
КЛАССОВ "НАУКОГРАД"

 ngkonkurs.ru

 naukograd-konkurs@mail.ru

 +7 (3852) 25-19-93

 vk.com/naukogradkonkurs

ПРИМЕРЫ ЗАДАНИЙ

ОКРУЖАЮЩИЙ МИР

3 КЛАСС

Дорогие друзья! Мы рады, что вы принимаете участие в нашем конкурсе! Внимательно читайте задания перед выполнением. Помните: в каждом из них может быть как один, так и несколько верных вариантов ответа. Сначала выполните задания на черновике, проверьте свои ответы, после чего заполните бланк ответов. Необходимо поставить метку ("крестик") в клеточку, которая соответствует выбранному варианту ответа. Желаем успехов!

1. Закончи фразу.

Соду, стиральные порошки, пластмассу, резину, краски производит _____ промышленность.

- А) легкая
- Б) тяжёлая
- В) пищевая
- Г) химическая

2. Третьеклассники рассказывали о знаках сервиса. С кем из ребят ты согласишься?

Илья сказал: «Знаки сервиса предупреждают водителя о каких-то опасностях на дороге».

Олег сказал: «Знаки сервиса сообщают водителю об остановках, стоянках, переходах».

Семен сказал: «Знаки сервиса показывают водителю, где можно поесть, отдохнуть, получить медицинскую помощь и т.д.».

- А) с Ильей

- Б) с Олегом
- В) с Семеном
- Г) не соглашусь ни с кем

3. О какой зерновой культуре идёт речь?

*Вырастает он в воде,
Хоть совсем не рыбка;
А положишь на столе –
Беленькая глыбка.*

- А) лёд
- Б) рис
- В) пшеница
- Г) кукуруза

4. Какая электростанция вырабатывает электричество за счет потока воды, падающей с плотины?

- А) ГЭС
- Б) ТЭС
- В) АЭС
- Г) ТЭЦ

5. К какой группе животных относится существо, изображенное на рисунке?



- А) земноводные
- Б) членистоногие
- В) рыбы
- Г) насекомые